



なんじ なんぷん

ただしい とけいを こたえましょう！ (1)

ねん

くみ なまえ

1 7じ10ぷんの とけいは どれですか。

あ



い



う



こたえ

2 3じ55ふんの とけいは どれですか。

あ



い



う



こたえ



なんじなんぷん

ただしいとけいを こたえましょう！ (2)

ねん

くみ

なまえ

1 10じ5ふんの とけいは どれですか。

あ



い



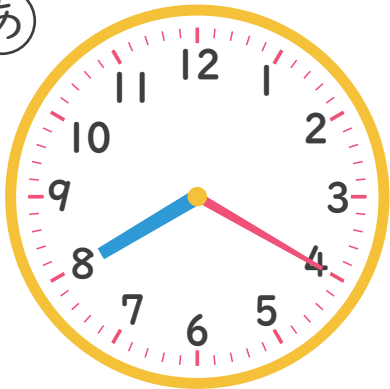
う



こたえ

2 4じ40ふんの とけいは どれですか。

あ



い



う



こたえ



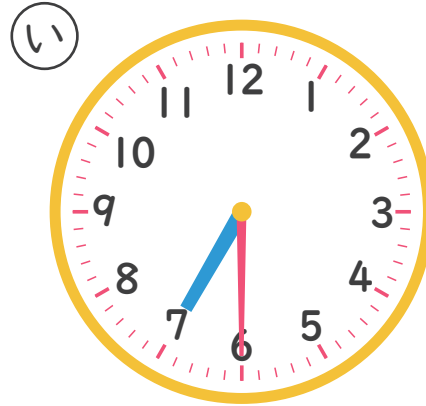
なんじなんぷん

ただしいとけいを こたえましょう！ (3)

ねん

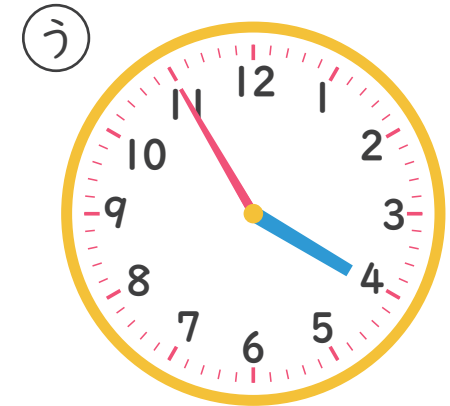
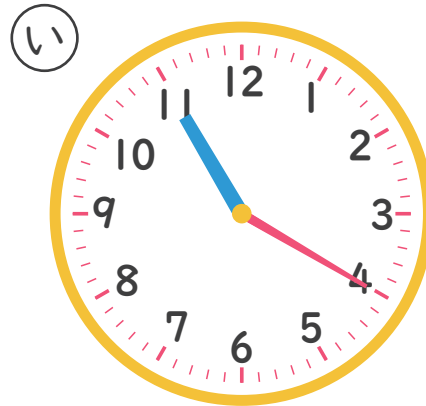
くみ なまえ

1 6じ35ふんの とけいは どれですか。



こたえ

2 11じ20ふんの とけいは どれですか。



こたえ

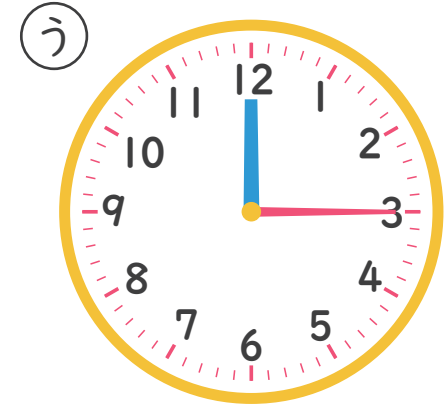
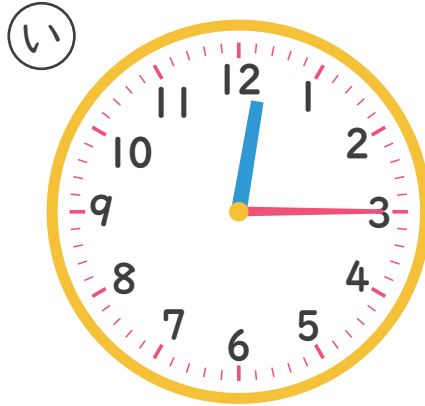



なんじなんぷん

ただしいとけいを こたえましょう！ (4)

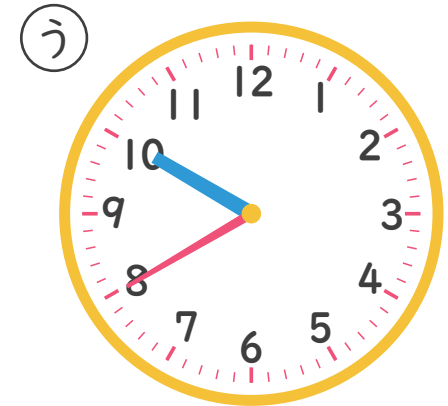
ねん くみ なまえ

1 12じ15ふんの とけいは どれですか。



こたえ

2 8じ50ふんの とけいは どれですか。



こたえ

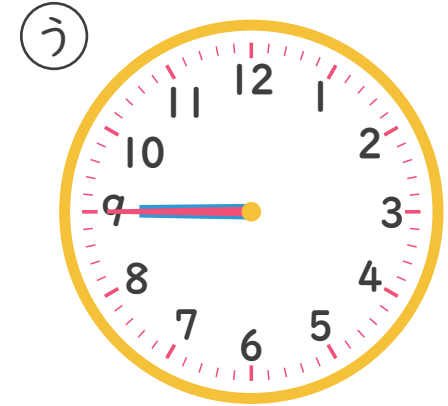
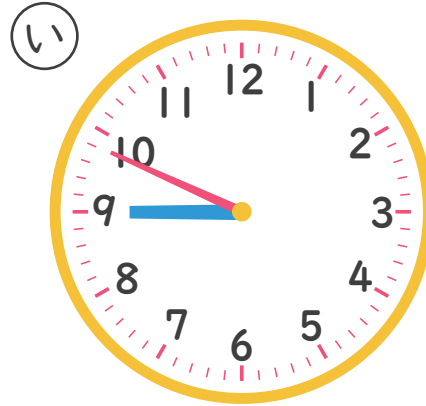


なんじなんぷん

ただしいとけいを こたえましょう！ (5)

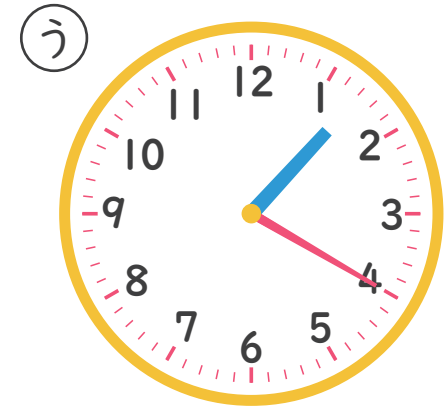
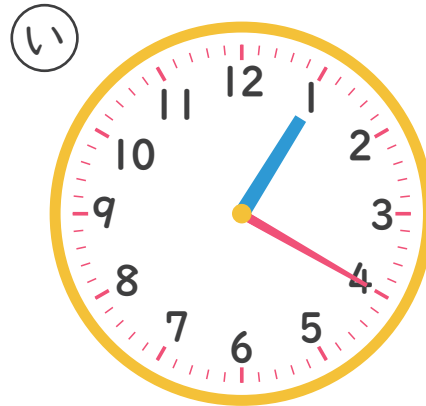
ねん くみ なまえ

1 9じ45ふんの とけいは どれですか。



こたえ _____

2 1じ20ふんの とけいは どれですか。



こたえ _____

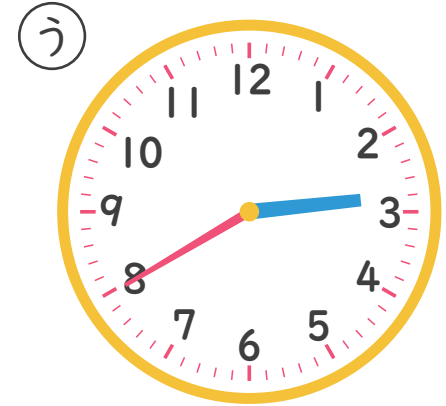
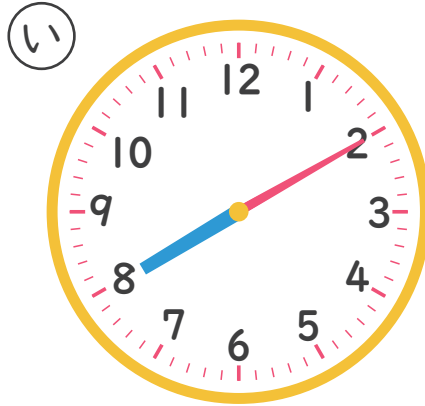


なんじなんぷん

ただしいとけいを こたえましょう！ (6)

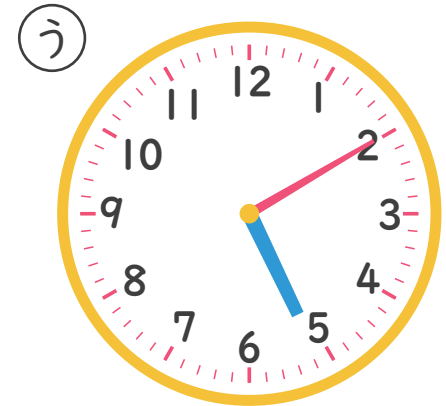
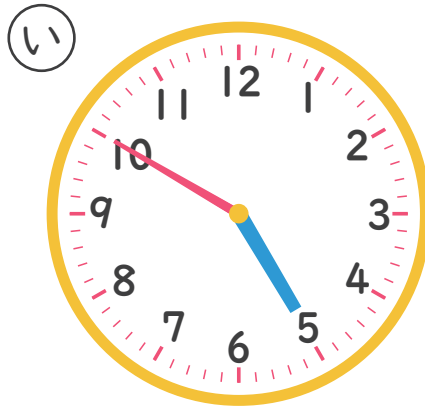
ねん くみ なまえ

1 2じ40ぷんの とけいは どれですか。



こたえ _____

2 5じ10ぷんの とけいは どれですか。



こたえ _____



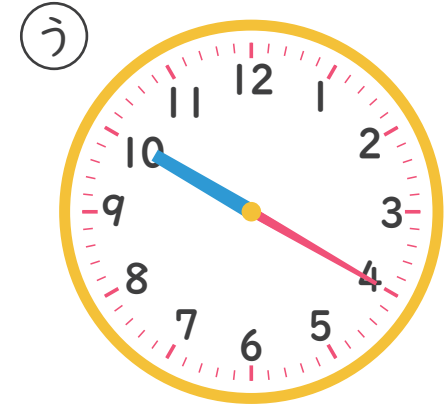
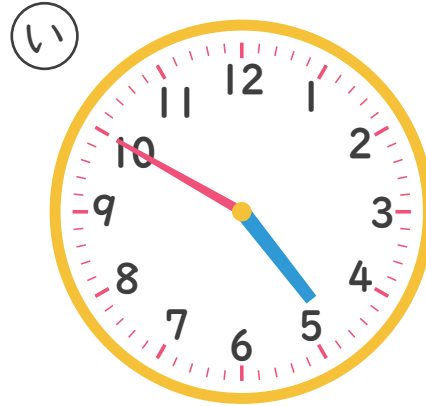
なんじなんぷん

ただしとけいをこたえましょう！(7)

ねん

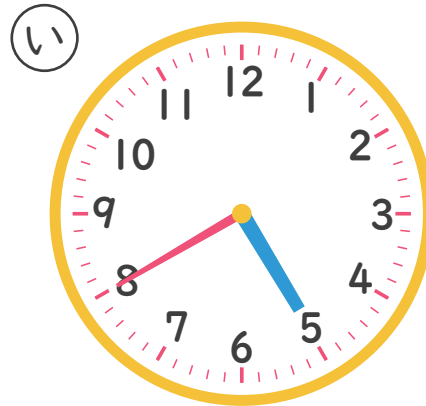
くみ なまえ

1 4じ50ふんのとけいはどれですか。



こたえ

2 8じ25ふんのとけいはどれですか。



こたえ



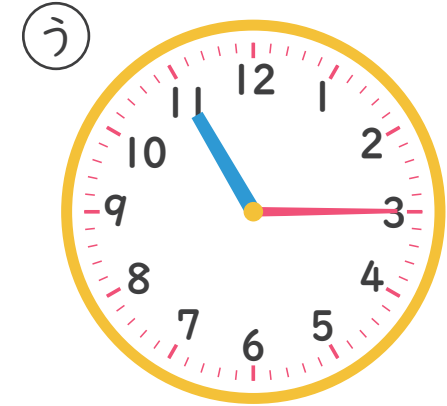
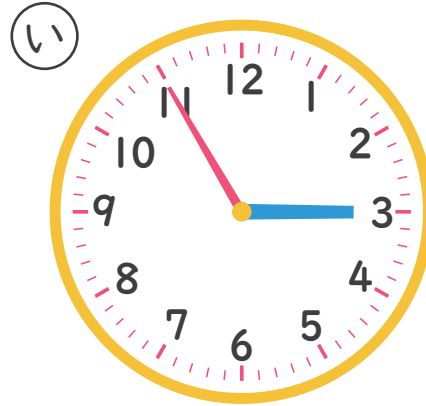
なんじなんぷん

ただしいとけいを こたえましょう！ (8)

ねん

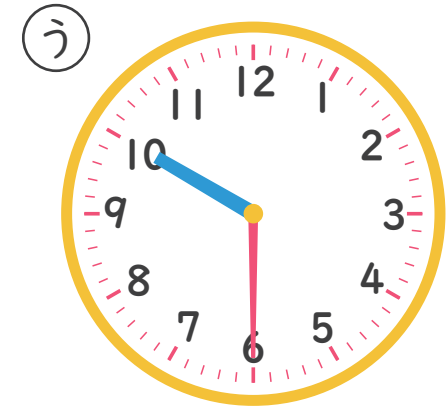
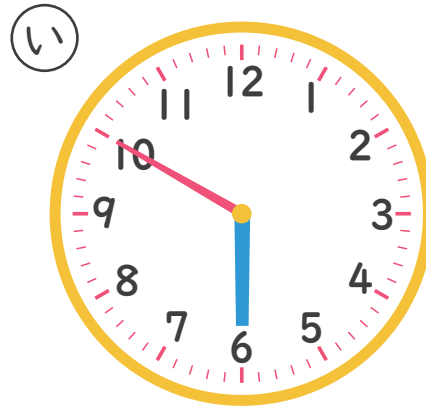
くみ なまえ

1 3じ55ふんの とけいは どれですか。



こたえ

2 10じ30ふんの とけいは どれですか。



こたえ

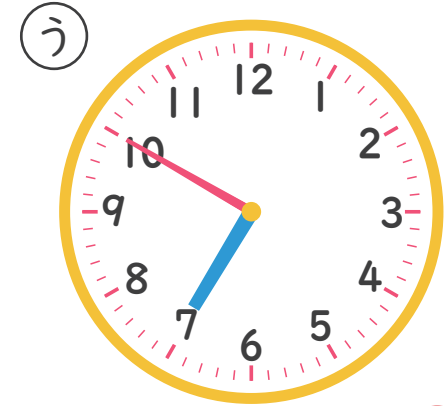
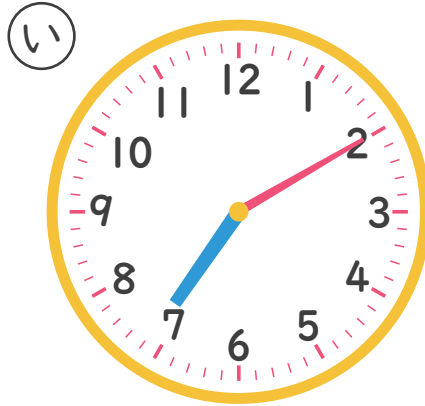


なんじなんぷん

ただしいとけいを こたえましょう！ (1)

ねん くみ なまえ

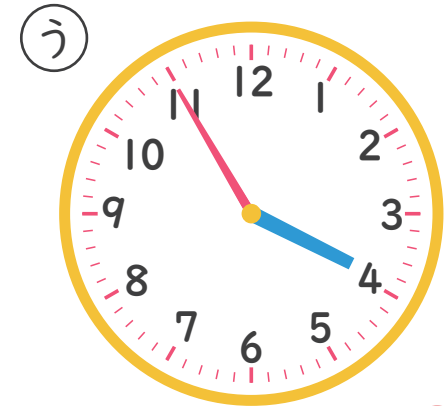
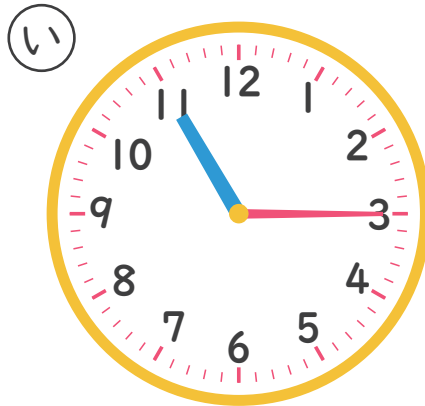
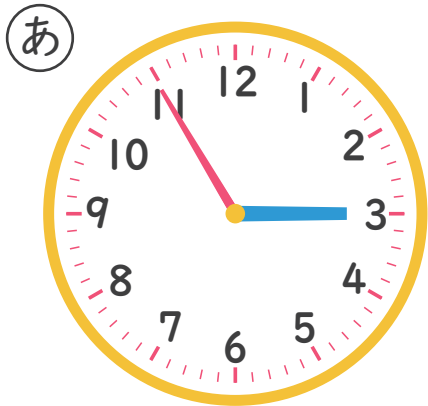
1 7じ10ぷんの とけいは どれですか。



こたえ

い

2 3じ55ふんの とけいは どれですか。



こたえ

う


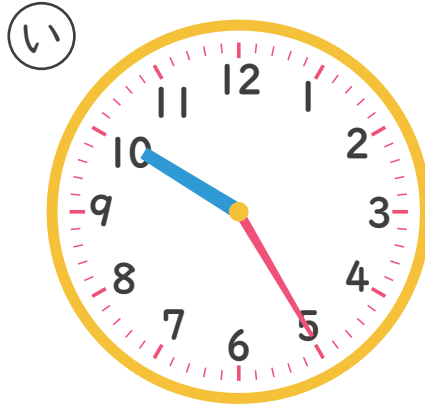


なんじなんぷん

ただしいとけいを こたえましょう！ (2)

ねん くみ なまえ

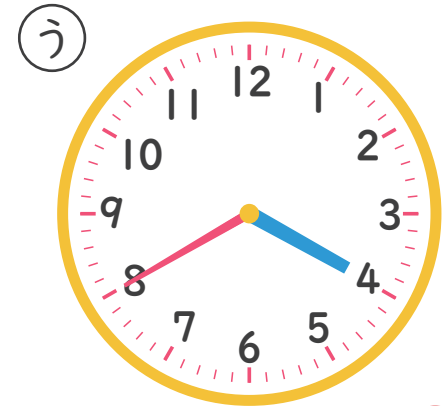
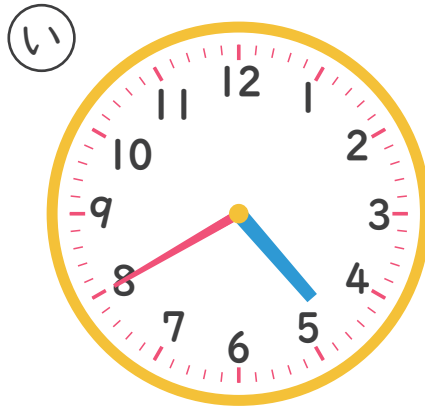
1 10じ5ふんの とけいは どれですか。



こたえ

あ

2 4じ40ふんの とけいは どれですか。



こたえ

い



なんじなんぷん

ただしいとけいを こたえましょう！ (3)

ねん

くみ

なまえ

1 6じ35ふんの とけいは どれですか。

あ



い



う

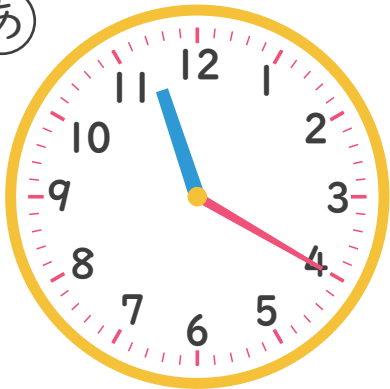


こたえ

う

2 11じ20ふんの とけいは どれですか。

あ



い



う



こたえ

あ



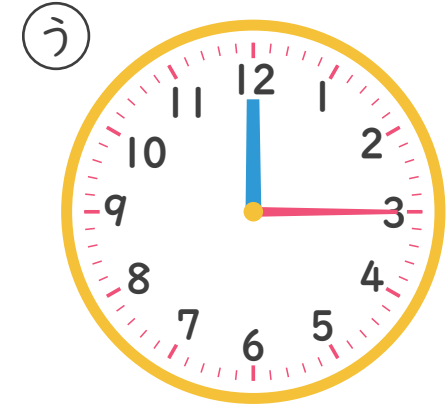
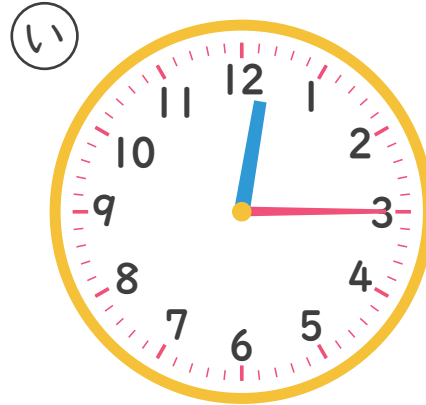

なんじ なんぷん

ただしい とけいを こたえましょう！(4)

ねん

くみ なまえ

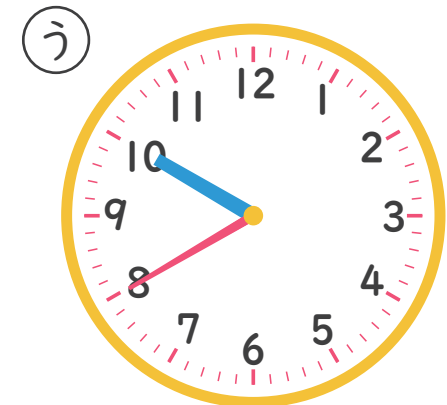
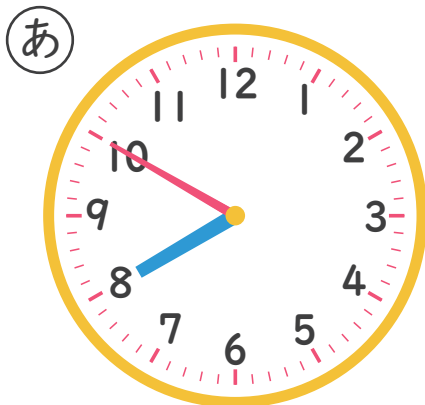
1 12じ15ふんの とけいは どれですか。



こたえ



2 8じ50ふんの とけいは どれですか。



こたえ





なんじ なんぷん

ただしい とけいを こたえましょう！ (5)

ねん くみ なまえ

1 9じ45ふんの とけいは どれですか。

あ



い



う



こたえ

あ

2 1じ20ふんの とけいは どれですか。

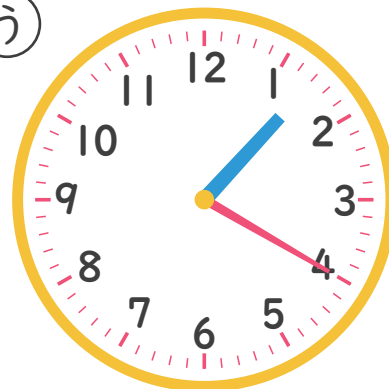
あ



い



う



こたえ

う

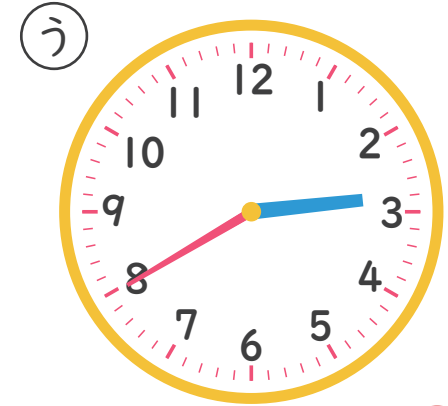
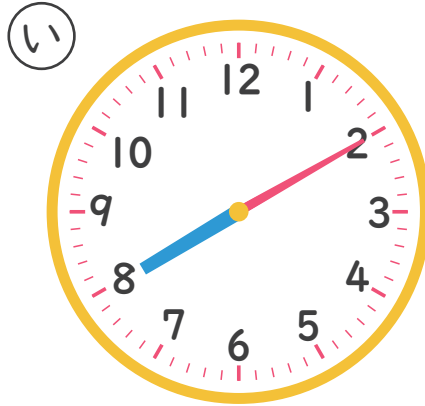


なんじ なんぷん

ただしい とけいを こたえましょう！ (6)

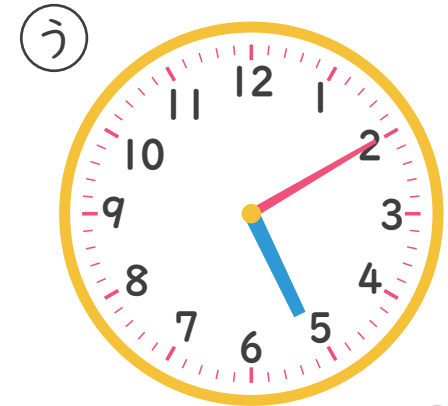
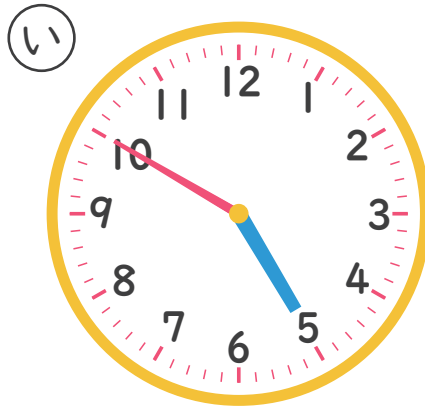
ねん くみ なまえ

1 2じ40ぷんの とけいは どれですか。



こたえ う

2 5じ10ぷんの とけいは どれですか。



こたえ う

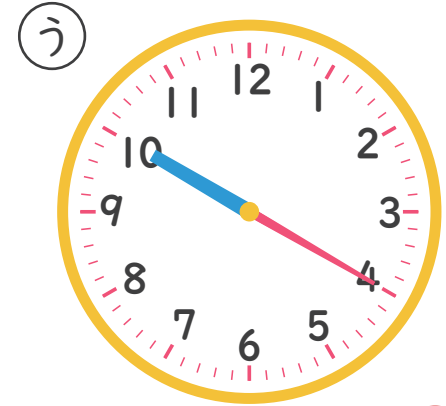
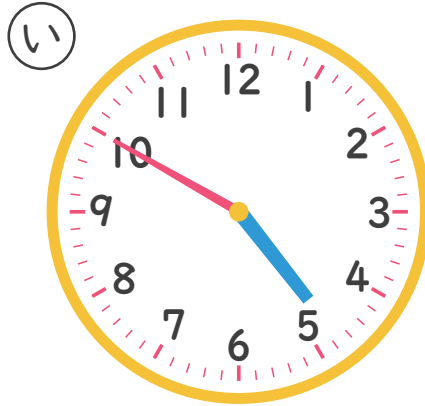


なんじなんぷん

ただしいとけいを こたえましょう！ (7)

ねん くみ なまえ

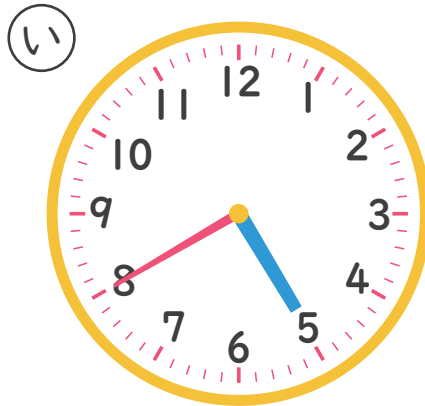
1 4じ50ぷんの とけいは どれですか。



こたえ

い

2 8じ25ぷんの とけいは どれですか。



こたえ

あ



なんじなんぷん

ただしいとけいを こたえましょう！ (8)

ねん

くみ

なまえ

1 3じ55ふんの とけいは どれですか。

あ



い



う

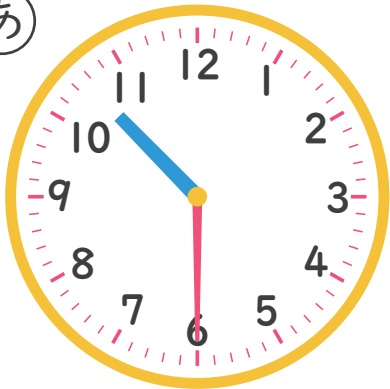


こたえ

あ

2 10じ30ふんの とけいは どれですか。

あ



い



う



こたえ

あ